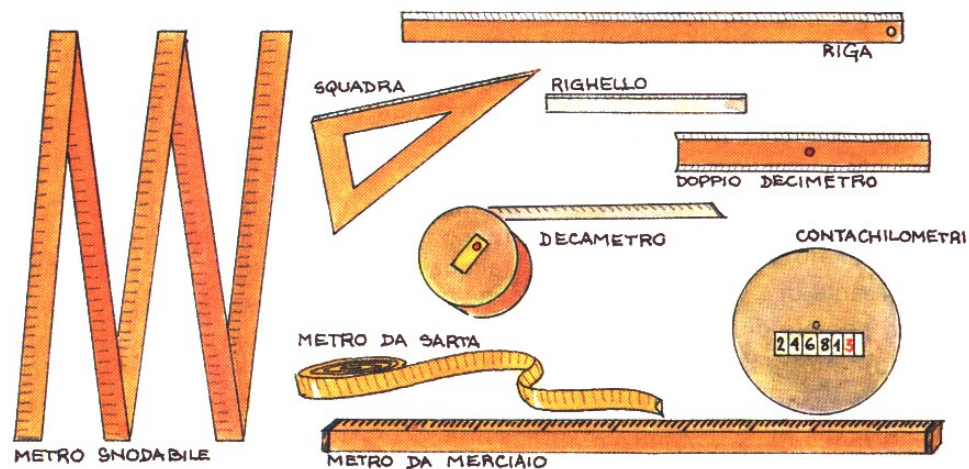



MISURE DI LUNGHEZZA



UN CHILOMETRO 1 km	UN ETTOMETRO 1 hm	UN DECAMETRO 1 dam	UN METRO 1 m	UN DECIMETRO 1 dm	UN CENTIMETRO 1 cm	UN MILLIMETRO 1 mm
equivale a...						
10 hm	10 dam	10 m	10 dm	10 cm	10 mm
100 dam	100 m	100 cm	100 mm
1000 m	1000 mm

MISURE DI PESO



UN CHILOGRAMMO 1 kg	UN ETTOGRAMMO 1 hg	UN DECAGRAMMO 1 dag	UN GRAMMO 1 g	UN DECIGRAMMO 1 dg	UN CENTIGRAMMO 1 cg	UN MILLIGRAMMO 1 mg
equivale a...						
10 hg 100 dag 1000 g	10 dag 100 g	10 g	10 dg 100 cg 1000 mg	10 cg 100 mg	10 mg

MISURE DI CAPACITA'



UN ETTOLITRO 1 hl	UN DECALITRO 1 dal	UN LITRO 1 l	UN DECILITRO 1 dl	UN CENTILITRO 1 cl	UN MILLILITRO 1 ml
equivale a...					
10 dal	10 l	10 dl	10 cl	10 ml
100 l	100 cl	100 ml
.....	1000 ml

MISURE DI LUNGHEZZA



1) Completa col segno opportuno.

>

=

<

45 m 45 dm

2 km 250 m

350 m 35 dam

600 m 1 km

75 cm 1 m

500 m 5 km

2) Riscrivi queste misure cambiando l'unità come indicato.

11 m \longrightarrow dm

50 cm \longrightarrow m

16 km \longrightarrow m

70 cm \longrightarrow dm

5 hm \longrightarrow m

4 dm \longrightarrow cm

3) Cambia l'unità di misura.

350 m \longrightarrow 35

20 km \longrightarrow 2000

800 m \longrightarrow 8

46 m \longrightarrow 4600


1500 m \longrightarrow 15

420 cm \longrightarrow 42

250 mm \longrightarrow 25

36 hm \longrightarrow 3600

MISURE DI PESO



4) Completa col segno opportuno.

>

=

<

50 g 1 hg

45 kg 1 g

500 g 1 hg

70 g 7 dag

85 q 1 t

950 g 1 kg

5) Riscrivi queste misure cambiando l'unità come indicato.

4 kg \longrightarrow hg

800 g \longrightarrow hg

7 kg \longrightarrow g

350 g \longrightarrow dag

8 dag \longrightarrow g

600 mg \longrightarrow cg

6) Cambia l'unità di misura.

150 g \longrightarrow 15

70 kg \longrightarrow 7000

37 hg \longrightarrow 370

46 hg \longrightarrow 460

4000 g \longrightarrow 4

42 cg \longrightarrow 4200

250 mg \longrightarrow 25

300 g \longrightarrow 3

MISURE DI CAPACITA'



7) Completa col segno opportuno.

>

=

<

10 l 1 dal

3 cl 30 ml

150 l 5 hl

9 dal 72 l

16 l 1 dal

47 dl 9 l

8) Riscrivi queste misure cambiando l'unità come indicato.

16 l → dl

2000 ml → l

400 l → hl

500 cl → l

73 cl → dl

850 l → dal

9) Cambia l'unità di misura.

450 cl → 45

24 dal → 2400

35 l → 350

12 l → 1200

2500 cl → 25


560 cl → 56

10 hl → 100

700 ml → 7

CONTROLLO SE HO IMPARATO...

km	hm	dam	m			hm
	9	1		m	km	
4		5		dam	m	hm
	7		3	km	dam	m
5			6	m	km	hm
		2		dam	hm	m



m	dm	cm	mm			
1	7	4		m	mm	dm
	4			mm	m	cm
		2	5	mm	dm	cm
7		4		dm	cm	m
	8	9	1	dm	mm	m

l	dl	cl	ml			
4	5			cl	dl	l
	7	2		cl	l	ml
	7		9	cl	ml	dl
	4			l	cl	dl
8		6		ml	cl	dl



kg	hg	dag	g			hg
2	1			kg	g	
		3	3	hg	g	dag
	3	3		hg	g	dag
1			9	g	kg	hg
7		5		kg	hg	dag

